

**Вариант контрольных измерительных материалов для проведения
промежуточной аттестации
по географии в 6 классе**

Пояснительная записка

Комплексная контрольная работа по географии является эффективной формой тематического контроля при изучении курса географии.

Контроль проводится как для проверки уровня освоения каждой темы, так и всего курса географии в 6 классе.

Данный контрольный тест проводится с учащимися 6 класса общеобразовательной школы.

Предлагаемая работа позволяет проверить знания и умения и получить необходимую информацию об уровне подготовленности учащихся по географии, насколько знания учащихся соответствуют программным требованиям и как учащиеся могут пользоваться своими знаниями и умениями при выполнении заданий.

Целью проведения данной работы является контроль освоения учащимися 6 класса курса географии за весь год обучения.

Работа рассчитана на 45 минут (1 урок).

Система оценивания:

Комплексная контрольная работа составлена из вопросов на уровне: часть А – базовый уровень (вопросы с одним правильным вариантом ответа), часть В – задания повышенного уровня сложности (на установление соответствия, выбора нескольких правильных ответов, дописать определение, вставить пропущенные слова, решить задачу и т. д). Каждый правильный ответ оценивается в 1 балл. При выполнении работы учащиеся могут набрать максимум 17 баллов.

Критерии выставления оценки:

Менее 7 баллов – «неудовлетворительно»,

7-10 баллов – «удовлетворительно»,

11-13баллов – «хорошо»,

14 баллов – «отлично».

Итоговая контрольная работа по географии -6 класс

Вариант 1.

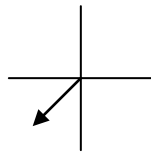
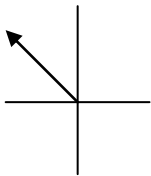
1. Кратчайшая линия, проведенная по поверхности Земли от одного полюса до другого – это:

- 1) меридиан
- 2) полюса
- 3) экватор
- 4) параллель

2. Какую широту имеет северный полюс?

- 1) 90° с.ш.
- 2) 0° с.ш.

3. Дайте названия сторон горизонта, показанных на схеме стрелкой



4. Между Черным и Каспийским морями расположены горы...

- 1) Альпы
- 2) Кавказские
- 3) Гималаи
- 4) Карпаты

5. Какие течения теплые

- 1) Куроисио
- 2) Перуанское
- 3) Гольфстрим
- 4) Западных ветров

6. Распределите известные крупнейшие заливы по принадлежности их к океанам.

- | Океаны | Заливы |
|-----------------------|-----------------|
| 1) Атлантический | А) Гудзонов |
| 2) Индийский | Б) Залив Аляска |
| 3) Тихий | В) Бенгальский |
| 4) Северный Ледовитый | |

7. Река – это...

- 1) непрерывный поток воды на суше
- 2) непрерывное перемещение воды в горизонтальном направлении
- 3) поток воды, текущий в выработанном им углублении
- 4) поток воды на суше, текущий с различной скоростью.

8. На острове Гренландия преобладают ледники

1) горные

2) покровные

9. Самое Большое озеро мира по площади...

- 1) Байкал
- 2) Чад
- 3) Каспийское
- 4) Верхнее

10. При подъеме над уровнем моря атмосферное давление уменьшается на 1мм рт. ст. на каждые...

- 1) 100,5м
- 2) 10,5м
- 3) 150м
- 4) 1000м.

11. Самолет поднялся на высоту 10км, температура земной поверхности в этой местности +24 °С. Какова температура за бортом.

- 1) - 42 °С
- 2) 0°С
- 3) - 36°С
- 4) - 16°С

12. На дне шахты барометр зафиксировал давление 780 мм рт. ст., а у поверхности земли – 760 мм рт. ст. Какова глубина шахты?

- 1) 200м
- 2) 300м
- 3) 400м
- 4) 210м

13. 22 июня в Северном полушарии день будет...

- 1) равен ночи
- 2) длиннее ночи
- 3) короче ночи

14. В течении суток были зафиксированы следующие данные: max = +2°С; min= - 8°С; Определите амплитуду и среднесуточную температуру.

15. Распространение организмов в океане в основном зависит...

- 1) от температуры воды
- 2) от прозрачности
- 3) от поступления солнечного света и перемещения воды, переносящий кислород и питательные вещества
- 4) от скорости течения

16. Что произойдет с природным комплексом степей, если степи полностью распахать?

- 1) изменится природный компонент «животные и растительные организмы»
- 2) изменится природный компонент «вода»
- 3) останется неизменный природный компонент «воздух»
- 4) природный комплекс «степей» разрушится

17. Карта с изображением государств и их столиц называются...

- 1) физическими
- 2) политическими
- 3) топографическими
- 4) административными

Итоговая контрольная работа по географии -6 класс

Вариант 2.


1. Кратчайшая линия, проведенная по поверхности Земли параллельно экватору – это

- 1) меридиан
- 2) полюса
- 3) экватор
- 4) параллель

2. Какую широту имеет экватор?

- 1) 90° с.ш.
- 2) 0° с.ш.

3. Дайте названия сторон горизонта, показанных на схеме стрелкой



4. Каким цветом на карте изображаются равнины?

- 1) зеленым
- 2) желтым
- 3) коричневым
- 4) любым одним из перечисленных

5. Какие течения холодные

- 1) Лабрадорское
- 2) Северо-Атлантическое
- 3) Перуанское
- 4) Межпассатное противотечение

6. Распределите известные моря по принадлежности их к океанам.

- | | |
|-----------------------|--------------|
| Океаны | море |
| 1) Атлантический | А) Карибское |
| 2) Индийский | Б) Баренцево |
| 3) Тихий | В) Красное |
| 4) Северный Ледовитый | |

7. Руслом реки называют...

- 1) место, где река берет свое начало
- 2) широкое понижение в рельефе
- 3) место, где река впадает в другую реку, озеро или море
- 4) углубление, выработанное потоком воды.

8. Ледниками являются:

- 1) айсберги
- 2) лед на реке
- 3) сосульки
- 4) льды на вершинах гор

9. Самое глубокое озеро мира по площади...

- 1) Байкал
- 3) Каспийское

2) Чад

4) Верхнее

10. При подъеме над поверхностью земли на каждый километр высоты температура воздуха понижается....

- 1) 3°C
- 2) 4°C
- 3) 5°C
- 4) 6°C

11. На какую высоту поднялся самолет, если за его бортом температура - 30°C, а у поверхности + 12 °C?

- 1) 10км
- 2) 7км
- 3) 12км
- 4) 20км

12. На вершине горы высотой 3,5км барометр показал 720мм рт. ст. Каково давление у подножья?

- 1) 1000мм рт. ст.
- 2) 780мм ср.ст.
- 3) 1053мм рт. ст.
- 4) 756мм рт. ст.

13. 22 декабря в Северном полушарии день будет...

- 1) равен ночи
- 2) длиннее ночи
- 3) короче ночи

14. В течении суток были зафиксированы следующие данные: max = +10°C; min= - +2°C; Определите амплитуду и среднесуточную температуру.

15. Распространение организмов на суше в основном зависит...

- 1) от температуры
- 2) от климата
- 3) от продолжительности дня и ночи
- 4) от режима выпадения осадков

16. Сколько основных рас живущих на Земле людей различают ученые-антропологи?

- 1) одна
- 2) две
- 3) три
- 4) четыре

Выбранный вариант подтвердите названиями рас.

17. Как изображаются на карте разные страны?

- 1) особыми условными знаками
- 2) только надписями через всю площадь страны
- 3) разными цветами
- 4) разными цветами и надписями

Ответы Вариант 1

№ вопроса	ответ
1	1
2	1
3	С-3; Ю-3
4	2
5	13
6	1А 2В 3Б
7	3
8	2
9	3
10	2
11	3
12	4
13	2
14	10°, 5°
15	3
16	4
17	2

Ответы Вариант 2

№ вопроса	Ответы
1	3
2	2
3	Ю-В; С-В
4	12
5	13
6	1А 2В 4Б
7	4
8	4
9	1
10	4
11	2
12	3
13	3
14	8° 4°
15	1
16	3 Европеоидная, монголоидная, негроидная
17	4

