

### Вариант КИМ промежуточной аттестации по математике для 2 класса.

Контрольная работа состоит из трех частей. Часть 1 из (А1-А10) тестовых вопросов с вариантами ответов, Часть 2 из В1-В3 с записью ответа, часть 3 (С1-С2 логические задачи на комбинаторику). В конце работы ученикам предлагается проанализировать выполненную работу и заполнить таблицу, а так же выполнить цветовую самооценку работы. Контрольная работа предусматривает два варианта. Контрольная работа направлена на выявление навыков учащихся по следующим темам математике за курс 2 класса.

№ вопроса	Тема
А1	Определение закономерности построения натурального ряда чисел
А2, А3, А4	Умение записывать арифметические действия (произведение, сумма, частное, разность)
А5	Решение задач на увеличение и уменьшение в несколько раз
А6, В2	Числовые выражения
А7	Решение задач на умножение в одно действие
А8	Определение геометрических фигур
А9	Единицы измерения длины
А10, В3	Периметр прямоугольника, квадрата
В1	Решение составных задач
С1, С2	Решение задач на комбинаторику

Ф.И.ученика \_\_\_\_\_ 2 класс \_\_\_\_\_

### КОНТРОЛЬНАЯ РАБОТА ПО МАТЕМАТИКЕ

#### Вариант 1.

#### Часть I

**А1.** Найди закономерность и продолжи ряд, отметив знаком (V) правильный вариант ответа.

7, 11, 15, ....., .....

1) 17, 19, 21      2) 16, 17, 18      3) 19, 23, 27

**А2.** Отметь знаком (V) произведение чисел 6 и 3.

1)  $6 \times 3$       2)  $6 : 3$       3)  $6 + 3$

**А3.** Отметь знаком (V) выражение, значение которого равно 56.

1)  $42 + 15$       2)  $60 - 4$       3)  $5 + 60$

**А4.** Отметь знаком (V) значение выражения  $3 + 4 \times 7$

- 1)49                    2)25                    3)31

**A5.** Отметь знаком (V) число, которое в 3 раза меньше, чем 12.

- 1)4                    2)3                    3)12

**A6.** Отметь знаком (V) выражение, где вместо точек нужно поставить знак «>»

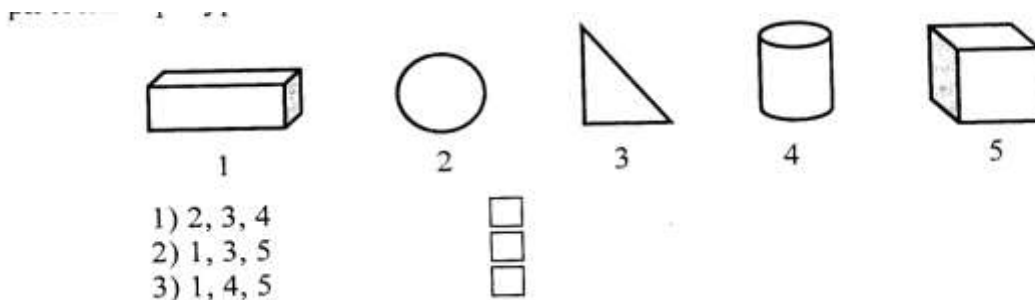
- 1)  $5 \times 1 \dots 9 \times 0$                     2)  $7 + 1 \dots 1 \times 8$                     3)  $0 \times 6 \dots 6 \times 1$

**A7.** Укажи верный ответ, отметив его знаком (V)

21 пачку печенья разложили поровну в 3 коробки. Сколько пачек печенья в каждой коробке?

- 1)5                    2)7                    3)6

**A8** Отметь ряд, котором указаны номера объемных геометрических фигур.



**A9.** Выбери верное утверждение, отметь его знаком (V)

- 1)  $1 \text{ м} = 100 \text{ см}$                     2)  $1 \text{ м} = 100 \text{ дм}$                     3)  $1 \text{ дм} = 100 \text{ см}$

**A10.** Отметь знаком (V) периметр прямоугольника со сторонами 2 см и 3 см.

- 1) 5 см                    2) 10 см                    3) 6 см

## Часть II

**B1.** Реши задачу.

Когда на 4 клумбы высадили по 7 кустов роз, то осталось ещё 10 кустов роз. Сколько кустов роз было всего?

---

---

---

---

---

---

**B2.** Запиши выражение и найди его значение.

Из 90 вычтешь произведение чисел 2 и 9.

---

**B3.** Найди периметр квадрата со стороной 2 см

---

## Часть III

**C1.** Реши задачу.

На трех полках 5, 10 и 8 книг. На второй полке в два раза больше книг, чем на первой, а на третьей на 2 книги меньше, чем на второй. Сколько книг на каждой полке?

1 -я полка - \_\_\_\_\_

2-я полка - \_\_\_\_\_

3-я полка - \_\_\_\_\_

**С2.** Миша, Вова и Никита имеют фамилии: Петров, Сидоров и Кузнецов. Какую фамилию имеет каждый, если Миша, Вова и Сидоров играют в футбол, а Миша и Петров ещё занимаются боксом?

Миша - \_\_\_\_\_

Вова - \_\_\_\_\_

Никита - \_\_\_\_\_

Проанализируй выполненную работу и заполни таблицу.

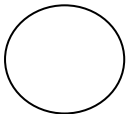
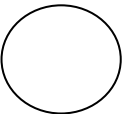
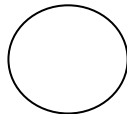
Задания, которые мне было выполнять легко	
Задания, при выполнении которых у меня возникли сомнения	
Задания, которые мне было выполнять трудно	
Задания, которые мне было выполнять интересно	

Выполни цветовую самооценку работы,

**Зелёный** - Я справился с заданием.

**Жёлтый** - Испытываю затруднения.

**Красный** - Было трудно. Мне нужна помощь.

Часть I	1 Часть II	Часть III
		

Ф.И. ученика \_\_\_\_\_ 2класс \_\_\_\_\_

## КОНТРОЛЬНАЯ РАБОТА ПО МАТЕМАТИКЕ

### Вариант 2

#### Часть I

**A1.** Найди закономерность и продолжи ряд, отметив знаком (V) правильный вариант ответа.

8, 11, 14, ..., ..

- 1) 17, 20, 23      2) 16, 18, 20      3) 15, 16, 17

**A2.** Отметь знаком (V) частное чисел 8 и 4.

- 1)  $8 \times 4$       2)  $8 : 4$       3)  $8 - 4$

**A3.** Отметь знаком (V) выражение, значение которого равно 47.

- 1)  $62 - 11$       2)  $42 + 6$       3)  $50 - 3$

**A4.** Отметь знаком (V) значение выражения  $5 + 4 \times 6$ .

- 1) 72      2) 29      3) 28

**A5.** Отметь знаком (V) число, которое в 2 раза больше, чем 9.

- 1) 18      2) 11      3) 19

**A6.** Отметь знаком (V) выражение, где вместо точек нужно поставить знак « = »

- 1)  $0 \times 4 \dots 4 - 0$       2)  $7 \times 1 \dots 8 - 1$       3)  $8 \times 0 \dots 8 \times 1$

**A7.** Укажи верный ответ, отметив его знаком

20 марок наклеили поровну на 4 альбомных страницы. Сколько марок на каждой странице?

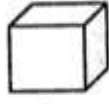
- 1) 16      2) 5      3) 6

**A8** Отметь ряд, котором указаны номера плоских фигур.

ческих фигур.



1




2



3



4



5

- 1) 1, 4, 5
- 2) 1, 3, 5
- 3) 2, 3, 4



**A9.** Выбери верное утверждение, отметив его знаком (V).

- 1)  $1\text{ м} = 10\text{ см}$
- 2)  $1\text{ дм} = 10\text{ см}$
- 3)  $1\text{ см} = 10\text{ дм}$

**A10.** Отметь знаком (V) периметр прямоугольника со сторонами 3 см и 4 см.

- 1) 14 см
- 2) 7 см
- 3) 12 см

### Часть II

**B1.** Реши задачу.

У Арины было 4 пачки карандашей по 6 штук в каждой. Она отдала Яне 10 карандашей. Сколько карандашей осталось у Арины?

---

---

---

---

**B2.** Запиши выражение и найди его значение. Из 70 вычти произведение чисел 2 и 8.

---

**B3.** Найди периметр квадрата со стороной 3 см.

### Часть III

**C1.** Реши задачу.

В трех вазах 3, 9 и 6 слив. В первой вазе в 3 раза меньше слив, чем в третьей, а во второй на 3 больше, чем в первой. Сколько слив в каждой вазе?

1-я ваза - \_\_\_\_\_  
2-я ваза - \_\_\_\_\_  
3-я ваза - \_\_\_\_\_

**C2.** Катя, Вера и Полина имеют фамилии: Чернова, Фролова и Иванова. Какую фамилию имеет каждая девочка, если Катя, Полина и Иванова занимаются танцами, а Полина и Чернова ещё занимаются музыкой?

Катя - \_\_\_\_\_  
Вера - \_\_\_\_\_  
Полина - \_\_\_\_\_

Проанализируй выполненную работу и заполни таблицу.

Задания, которые мне было выполнять легко	
Задания, при выполнении которых у меня возникли сомнения	
Задания, которые мне было выполнять трудно	
Задания, которые мне было выполнять интересно	

Выполни цветовую самооценку работы,

**Зелёный** - Я справился с заданием.

**Жёлтый** - Испытываю затруднения.

**Красный** - Было трудно. Мне нужна помощь.

	1	
Часть I	Часть II	Часть III
